



EVALUACIÓN INICIAL MATEMÁTICAS 2º DE PRIMARIA

ALUMNO-A: _____ FECHA: _____

1. Coloca y resuelve estas operaciones.

	1	8	
-		6	
<hr/>			

	4	6	
-	3	5	
<hr/>			

75 - 14

44 - 34

17 + 36 + 4

63 + 18

	1	1	
+	4	6	
	3	7	
<hr/>			

	5	8	
+	1	0	
	2	9	
<hr/>			

2. Escribe

Dos números que tengan 5 decenas

--	--

Dos números entre el 30 y el 40

--	--

Dos números mayores que 61

--	--

El número 76 con letra






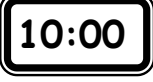
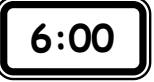

3. Ordena de mayor a menor estos números.

2 - 27 - 96 - 89 - 73 - 64

_____ > _____ > _____ > _____ > _____ > _____

4. Sigue las series


5. Une con flechas

 	<p>las 5 en punto</p>	 
 	<p>las 6 en punto</p> <p>las 10 en punto</p> <p>las 9 en punto</p>	 

6. Resuelve

En una granja hay 15 gallinas, 21 cerdos y 44 ovejas.

¿Cuántos animales hay en total?



Hay _____ gallinas.

Hay _____ cerdos.

Hay _____ ovejas.

Hay _____ animales en total.

7. Resuelve

Un equipo tiene 36 balones y jugando se pinchan 15.

¿Cuántos balones quedan?



Hay _____ balones.

Se pinchan _____ balones.

Solución: _____