

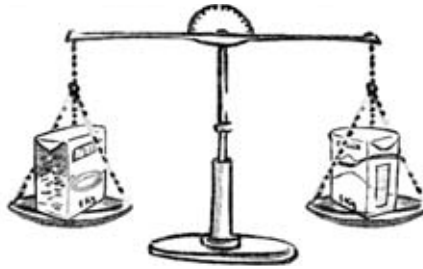
Apellidos:

Nombre:

1. Observa las ilustraciones siguientes y completa las frases.



El libro pesa .....  
que el cuaderno.

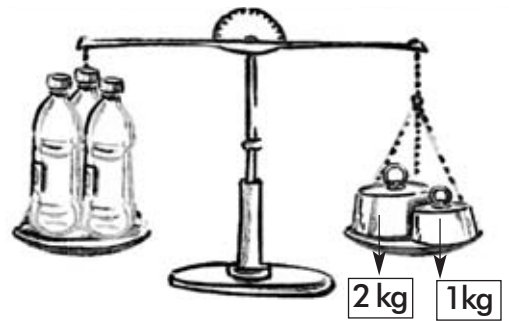



El arroz pesa .....  
que el azúcar.



Las galletas pesan .....  
que el cacao.

2. Observa estos dibujos y responde. ¿Cuánto pesan los plátanos?



3. Relaciona con flechas.

- |                     |                      |
|---------------------|----------------------|
| 2 kilos •           | • 16 cuartos de kilo |
| 4 kilos •           | • 4 medios kilos     |
| 4 medios kilos •    | • 2 medios kilos     |
| 4 cuartos de kilo • | • 8 cuartos de kilo  |

4. Completa las siguientes igualdades con el número que falta en cada caso.

1 kg = ..... g                      ..... kg = 7.000 g  
3 kg = ..... g                      ..... kg = 9.000 g

5. Une cada cantidad con la unidad correspondiente.

- un cartón de zumo •
- una bolsa de pistachos •
- una pluma de paloma •
- un perro •



Apellidos:

Nombre:

1. Ordena los siguientes pesos de mayor a menor.



..... > ..... > ..... > .....

2. Completa estas frases.

- 4 cuartos de kilo son ..... medios kilos.
- 3 medios kilos son ..... cuartos de kilo.
- ..... cuartos de kilo son 2 kilos.
- 3 kilos son ..... gramos.
- ..... kilos son 20.000 gramos.

3. Un kilo de naranjas cuesta 1 € y 50 CENT. ¿Cuánto costará una bolsa de 3 kilos?



4. La doctora le ha mandado a Irene tomar una pastilla que pesa 2 g después del desayuno, la comida y la cena. ¿Cuántos días le durará la caja si pesa 150 gramos?

5. Gerardo compró el martes 1 kilo de mandarinas a 90 CENT el kilo, 1 cuarto de kilo de fresas a 2 € y 40 CENT el kilo, y medio kilo de ciruelas a 1 € y 50 CENT el kilo. ¿Cuánto le costó todo? Si pagó con un billete de 5 €, ¿cuánto le devolvieron?

Apellidos:

Nombre:


1. Calcula estas divisiones y rodea las que sean exactas.

$$636 \overline{) 6}$$

$$1812 \overline{) 3}$$

$$2833 \overline{) 4}$$

2. Estima el peso de los siguientes objetos y rodea la respuesta correcta.

	medio kilo 100 g 2 kg		cuarto de kilo 1 kg 5 kg
	cuarto de kilo 10 kg 20 g		cuarto de kilo medio kilo 3 kg

3. ¿Cuántos vasos de cuarto de litro podemos llenar con 3 litros de leche?

4. El padre de Azucena ha echado 5 pastillas de abono a los rosales. Si cada pastilla pesa 20 g, ¿cuántos gramos de abono habrá echado en los rosales?

5. Una lata de bonito en aceite pesa 100 g. El aceite de la lata pesa 28 g y la lata vacía pesa 10 g. ¿Cuántos gramos pesa el bonito?

